


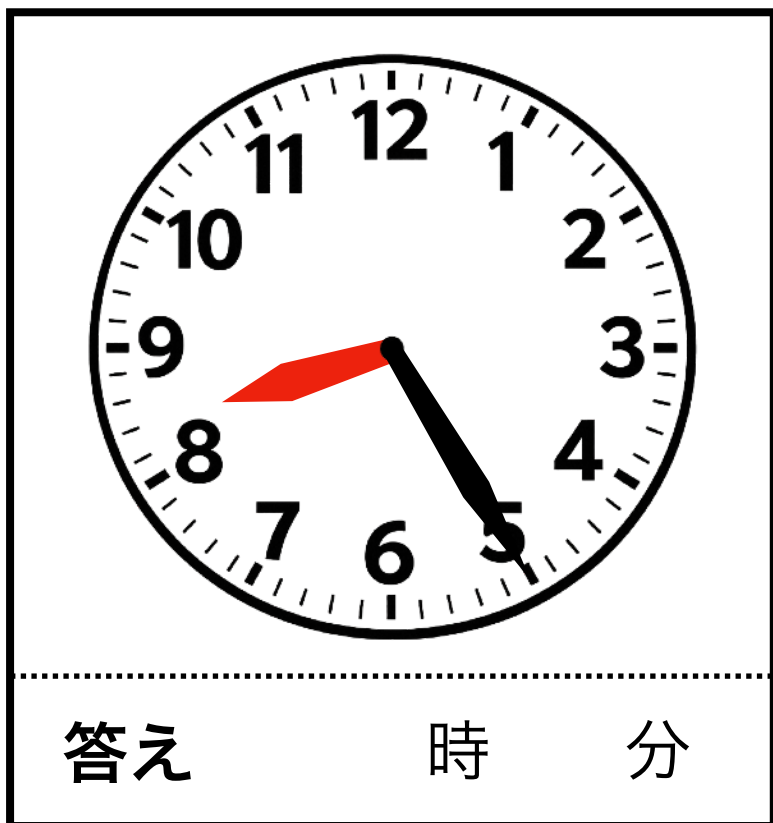
時計クイズ 6



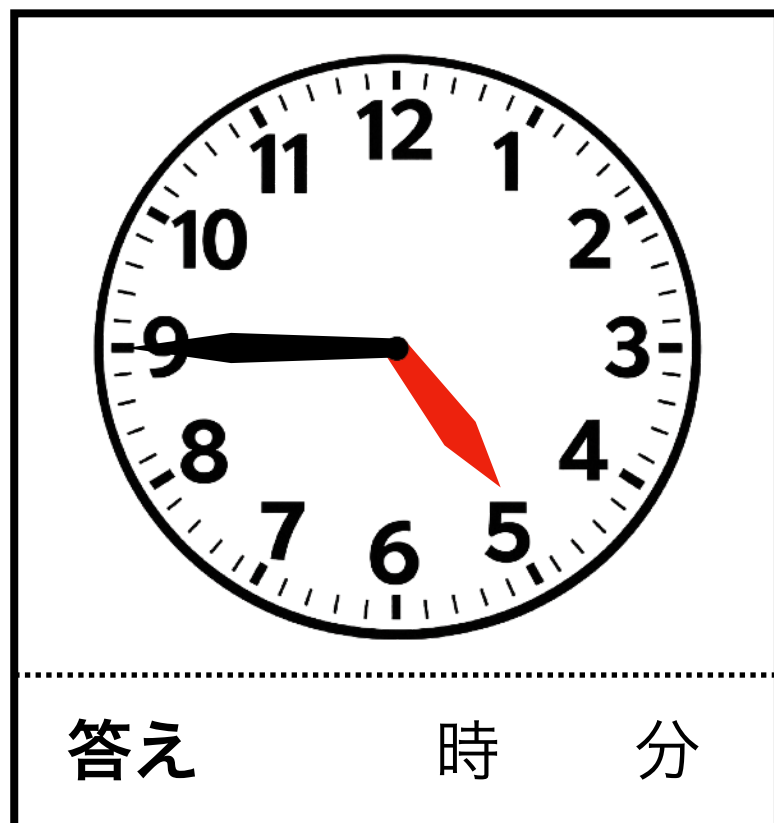
【問1・2】 次の時計は何時何分ですか。下の答えに記入して下さい。

※ 「ちょうど」 の場合も、分は「00分」と書きましょう。

1



2



【問3】 次の時計の時刻から、
20分後は何時何分ですか。

3



【問4】 次の時計の時刻から、
10分前は何時何分ですか。

4



【謎景】 1 : 8時52分 5 : 4時42分 3 : 5時22分 4 : 2時22分

↑ 【解答】 は上下を反転させています

笑顔生き生き応援隊

ドングリマツリ

<https://kawaguchi-website.jp>

