


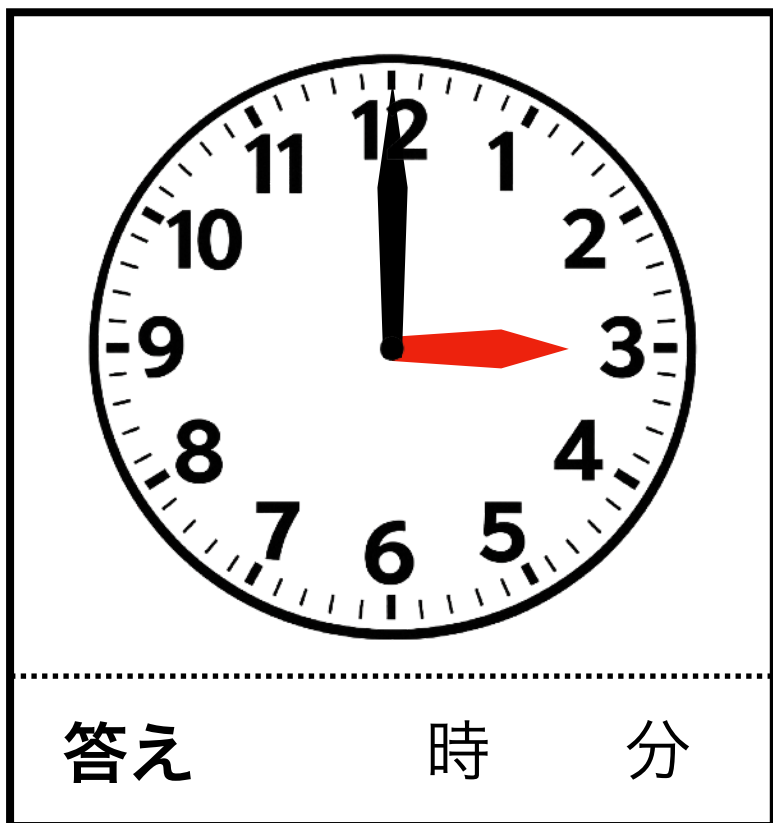
時計クイズ 1



【問1・2】 次の時計は何時何分ですか。下の答えに記入して下さい。

※ 「ちょうど」 の場合も、分は「00分」と書きましょう。

1



2



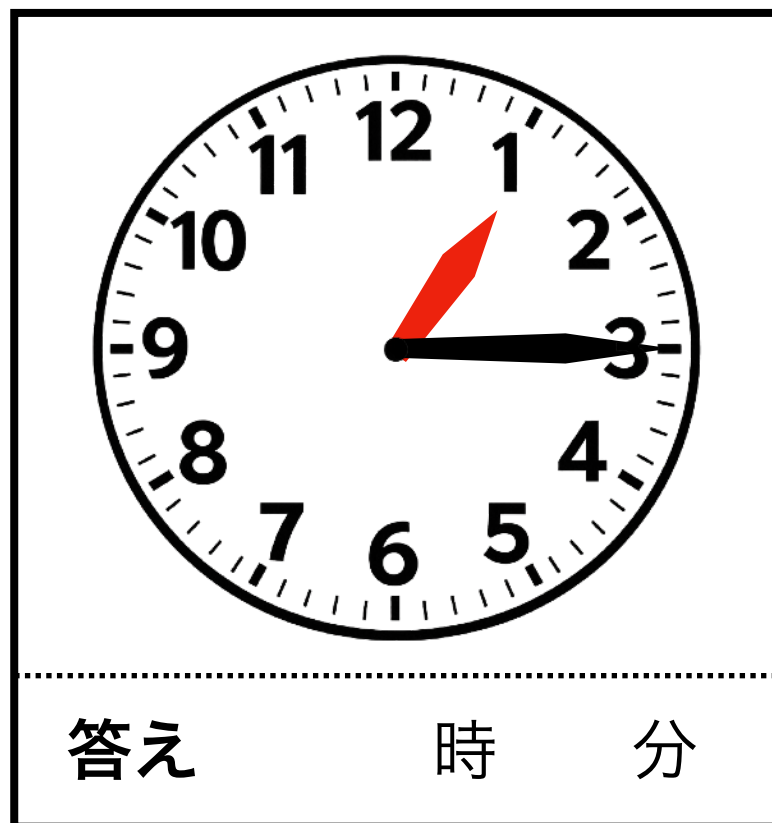
【問3】 次の時計の時刻から、
10分後は何時何分ですか。

3



【問4】 次の時計の時刻から、
15分後は何時何分ですか。

4



【謎景】 1 : 3時00分 5 : 1時30分 3 : 0時30分 4 : 1時30分

↑ 【解答】 は上下を反転させています

笑顔生き生き応援隊

ドングリマツリ

<https://kawaguchi-website.jp>

