


お金のクイズ 2



【問題】それぞれのお金について、当てはまるものを選んでください。

1 このお金はいくらですか？



A 40円

B 50円

C 60円

2 このお金はいくらですか？




A 20円

B 25円

C 30円

3 このお金はいくらですか？



A 100円

B 110円


C 120円

4 この中で「65円」になるものはどれですか？

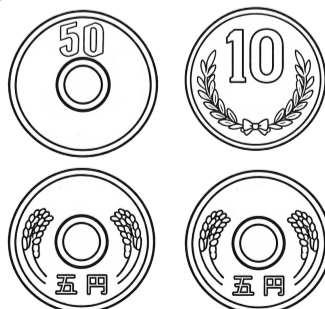
①



②



③



A ①

B ②

C ③

ゆっくり考えて取り組みましょう 😊