


お金のクイズ 10



【問題】それぞれのお金について、当てはまるものを選んでください。

1 このお金はいくらですか？



A 540円

B 520円

C 530円

2 このお金はいくらですか？



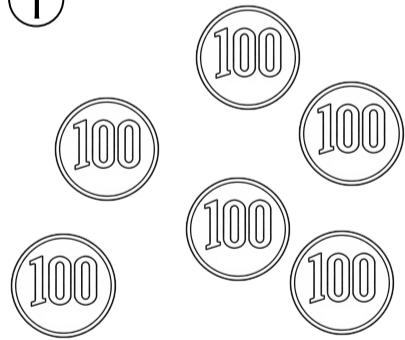
A 570円

B 560円


C 580円

3 この中で「600円」になるものはどれですか？


①



②



③




A ②と③

B ①と③

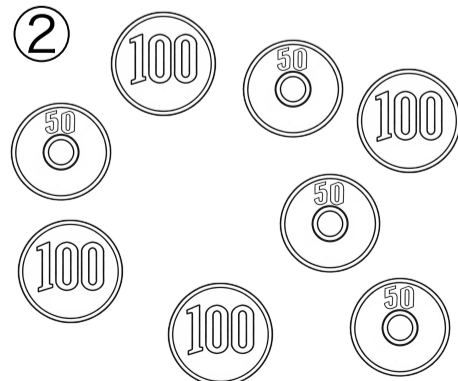
C ①と②

4 この中で1番少ない枚数で「600円」になるものはどれですか？


①



②



③



A ①

B ②

C ③

ゆっくり考えて取り組みましょう 😊