


# お金のクイズ 5



【問題】それぞれのお金について、当てはまるものを選んでください。

1 このお金はいくらですか？




A 200円

B 250円

C 300円

2 このお金はいくらですか？




A 150円

B 160円


C 170円

3 この中で「300円」になるものはどれですか？


①



②



③




A ①と②

B ②と③


C ①と③

4 この中で1番少ない枚数で「300円」になるものはどれですか？


①



②



③



A ①

B ②

C ③

ゆっくり考えて取り組みましょう 😊