



# お金のクイズ 6



【問題】それぞれのお金について、当てはまるものを選んでください。

1 このお金はいくらですか？




A 400円

B 500円

C 600円

2 このお金はいくらですか？




A 300円

B 350円

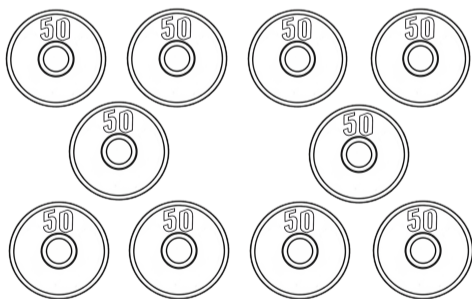
C 400円

3 この中で「500円」になるものはどれですか？


①



②



③




A ①と②

B ①と③


C ②と③

4 この中で1番少ない枚数で「500円」になるものはどれですか？


①



②



③



A ①

B ②

C ③

ゆっくり考えて取り組みましょう 😊